



مدرسة الصفوة النموذجية
Al-Safwa Ideal School

وزارة التربية

الإدارة العامة لتعليم الخاص

مدرسة الصفوة النموذجية بنين

مهارات الفصل الدراسي الثاني للفصل الأول الابتدائي للعام الدراسي ٢٠١٢/٢٠١١



إعداد المعلم

محمد محمود منصور

مدير المرحلة الابتدائية

عبد الرحمن عبد الكريم الفريح

رئيس القسم

حسام حسني

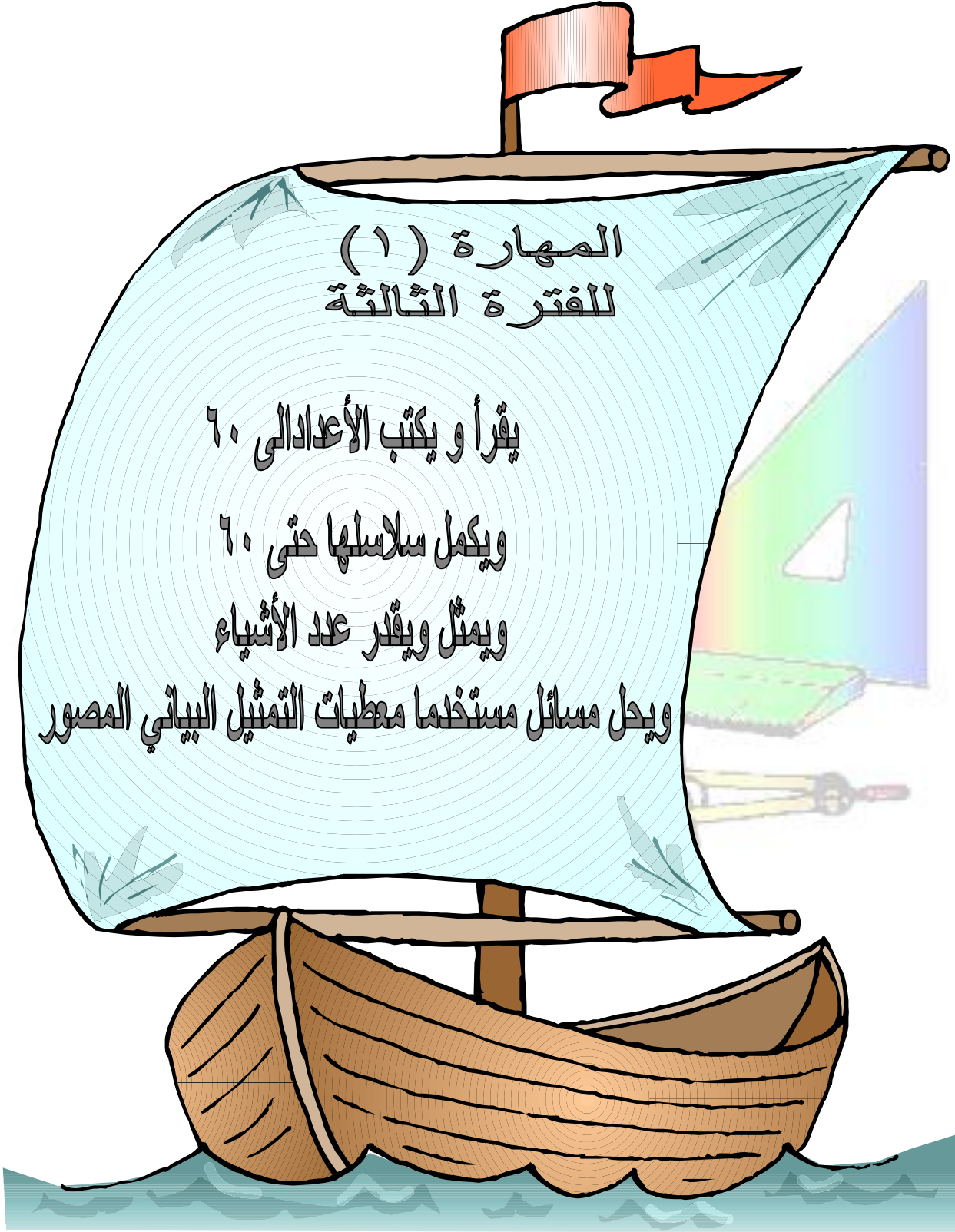


مدرسة الصفوة النموذجية
Al-Safwa Ideal School

وزارة التربية

الإدارة العامة لتعليم الخاص

مدرسة الصفوة النموذجية بنين





السؤال الاول أكمل

١٠ و ٤٠ يكونان

١٠ و ٦ يكونان

السؤال الثاني اقرا التمثيل البياني التالي

عدد السيارات لدى التلاميذ	
	بدر
	وليد
	عمر

من لديه اكبر عدد من السيارات ؟ -----

كم سيارة عند بدر أكثر من عمر ؟ -----

كم سيارة يحتاجها وليد لكي يكون عنده ٣٠ سيارة ؟ -----



مدرسة الصفوة النموذجية
Al-Safwa Ideal School

وزارة التربية

الإدارة العامة لتعليم الخاص

مدرسة الصفوة النموذجية بنين





مدرسة الصفوة النموذجية
Al-Safwa Ideal School

مهارة رقم (٢)

الفترة الثالثة الفصل الدراسي الثاني

وزارة التربية

الإدارة العامة لتعليم الخاص





مدرسة الصفوة النموذجية بنين

٢٠١٢/٢٠١١

الصف الأول الابتدائي




السؤال الأول : اكمل العد بالخمسات (خمسة - خمسة)

			
			٥

السؤال الثاني : أكمل العد بالاثنتين

٤ ، ٦ ، ٨ ، ----- ، ----- ، -----

السؤال الثالث : حوط الفراشة الرابعة






مدرسة الصفوة النموذجية
Al-Safwa Ideal School

وزارة التربية

الإدارة العامة لتعليم الخاص

مدرسة الصفوة النموذجية بنين





مدرسة الصفوة النموذجية
Al-Safwa Ideal School

مهارة رقم (٣)

وزارة التربية

الفترة الثالثة الفصل الدراسي الثاني

الإدارة العامة لتعليم الخاص

٢٠١٢/٢٠١١

مدرسة الصفوة النموذجية بنين

الصف الأول الابتدائي



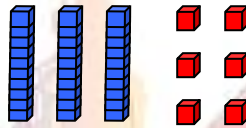
السؤال الأول : اكمل

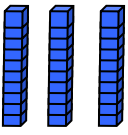
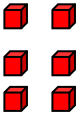
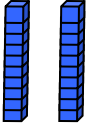

٧ وحدات و ٨ عشرات يكونان -----

٣٠ و ٥٠ يكونان -----

السؤال الثاني اكمل

عشرات	احاد



عشرات	احاد
	
	

السؤال الثالث:

عدد طلاب الصف السادس ٣٦ طالب

عدد طلاب الصف السابع ٢٢ طالب

كم عدد طلاب الصفين معا؟ -----



مدرسة الصفوة النموذجية
Al-Safwa Ideal School

وزارة التربية

الإدارة العامة لتعليم الخاص

مدرسة الصفوة النموذجية بنين





السؤال الأول : اكتب الأحاد والعشرات وحوط رمز العدد الأكبر



٥٦ ----- وحدات و---- عشرات

٤٧ ----- وحدات و---- عشرات

السؤال الثاني : اكمل

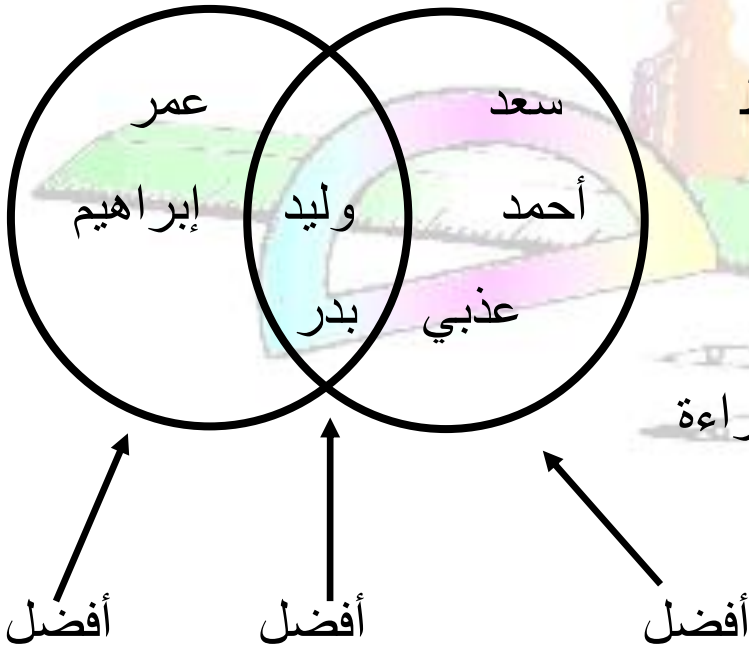
العدد ٣٦ يأتي قبل العدد٠٠٠٠٠

العدد ٥٢ يأتي بين العددين٠٠٠٠٠ و٠٠٠٠٠

السؤال الثالث : أكمل

ما عدد الذين يفضلون القراءة فقط

ما عدد الذين يفضلون الرسم والقراءة



الرسم

الرسم والقراءة

القراءة



مدرسة الصفوة النموذجية
Al-Safwa Ideal School

وزارة التربية

الإدارة العامة لتعليم الخاص

مدرسة الصفوة النموذجية بنين





السؤال الأول اكتب الوقت



_____ : _____



_____ : _____

السؤال الثاني

فبراير ٢٠١٢						
الجمعة	الخميس	الأربعاء	الثلاثاء	الاثنين	الأحد	السبت
٣	٢	١				
١٠	٩	٨	٧	٦	٥	٤
١٧	١٦	١٥	١٤	١٣	١٢	١١
٢٤	٢٣	٢٢	٢١	٢٠	١٩	١٨
		٢٩	٢٨	٢٧	٢٦	٢٥

..... أي يوم في الأسبوع هو ١ فبراير؟

..... أي يوم في السنة هو يوم التحرير ؟

..... ما الشهر الذي يأتي بعد فبراير؟